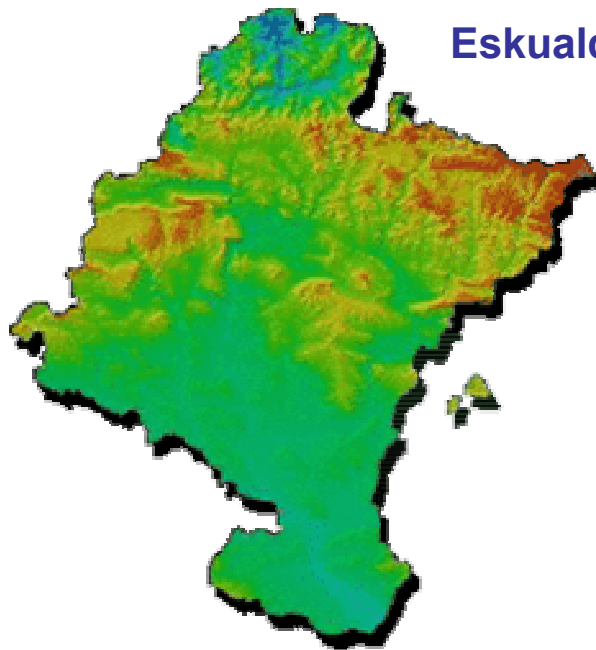




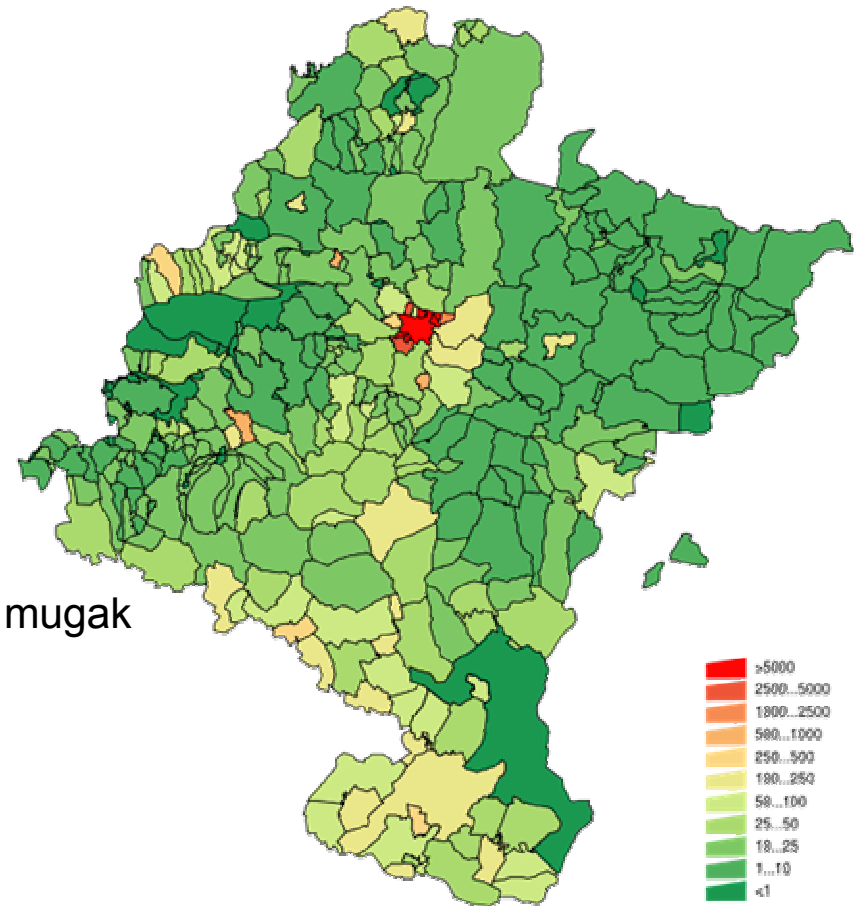
ESKUALDE FISIKOAK

ariketak





Eskualde fisikoak



Biztanleria dentsitatea

1.- Bereiztu bi marraz Nafarroako eskualdeen mugak

2.- Zein mendilerrok mugatzen dute mendialdea eta erdialdea?

3.- Zein eskualdek du biztanleria dentsitate txikiago, zein handiago? Zer ondorioztatzen ahal da?

MENDIALDEA

ERRIBERA



erliebea



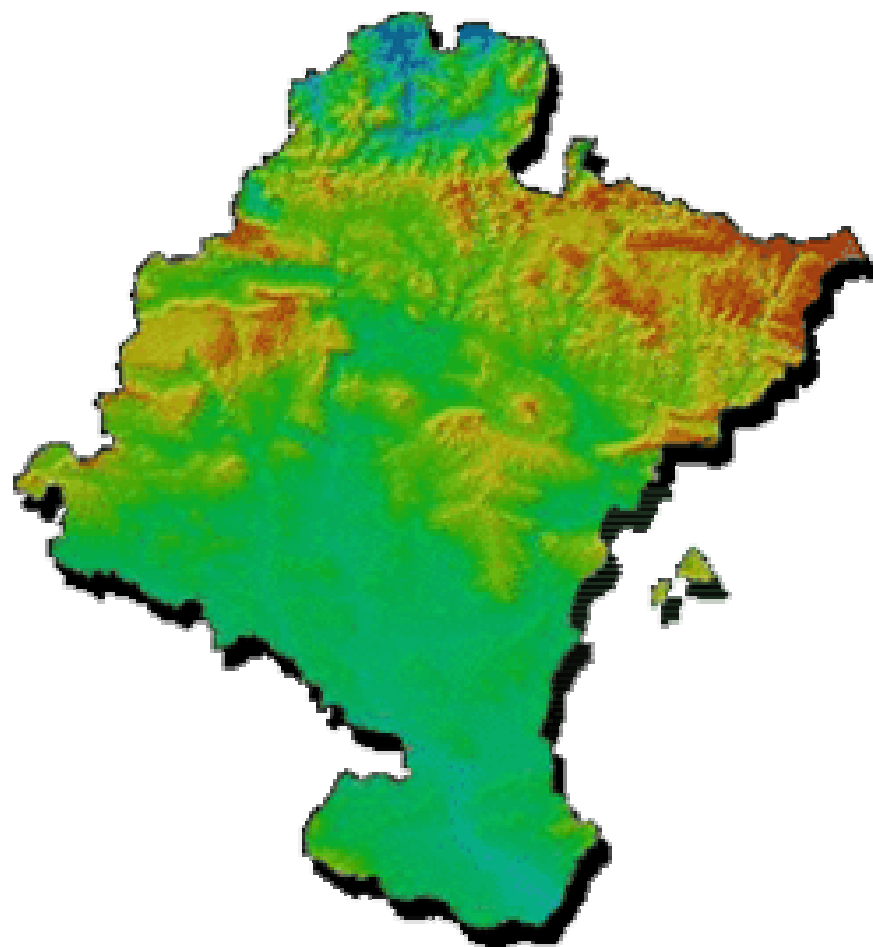
klima



landaredia



nekazaritza



Mendialdea

Erdialdea

ala

Erriberakoak:

Sailkatu paisaia hauek:

















Pinu gorria
Ezpela
Izei zuria
Pagoa
Mendi-pinua
Haritz kanduduna
Elorri zuria
Urritza
Iratzea
Elorri zuria
Otea
Haltza
Sahatsa
Lizarra
Erkametza
Untza
Ipurua
Artea

Apelatz arrunta
Uda-txina
Arabazozo pikarta
Artzandobi arunta
Mirotz zuria
Berdantza horia
Txonta arrunta
Birigarro arrunta
Erreka txindorra
Txantxangorria
Txepetxa
Buztanikara horia
Martin arrantzalea
Ur zozoa
Sai zuria
Sai arrea
Buztanforri iluna
Garaztarroa
Buztanzuri arrunta
Mendi txirta
Pitxartxar nabarra
Tuntun arrunta
Gailupa
Okil handia
Txonta arrunta
Amilotx urdina
Zapelatza liztorjalea
Eskinosoa
Zozoa
Kaskabeltz handia
Garrapoa
ZataHegatxabala
Elur-eperra

Urubi arrunta
Oilagarroa
Basoilarra
Belatz handia
Belea
Hontz handia
Haintz-enara
Txepetxa
Aztorea
...

Musker berdea
Kantauriko sugedorria
Sagarroia
Eskulapioren sugea
Igaraba
Izokin arrunta
Aingira
Amuarraina
Ezkailua
Nafarroako zaldikoa
Ardi latxa
Erbi europarra
Sator arrunta
Sugandila bizierrulea
Basurdea
Azkonarra
Lursagu gorria
Oreina
Arrabio arrunta
Muxar grisa
Igel gorria
Sarrioa
Ugarza
Katazuria
Lepahoria
Hartz arrea
Katagorria
Orkatza
Malkar sorbeltza
Arrano beltza
Lepazuria
Katagorria
...



Mendialdea